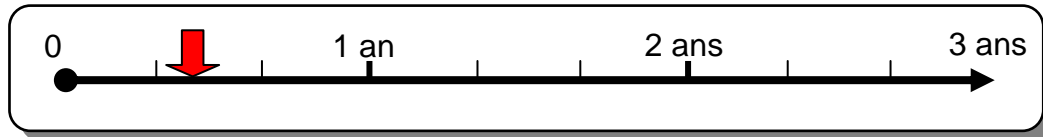
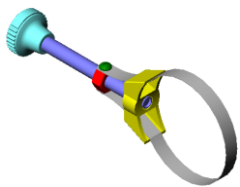



Nom :	<b>FICHE CONTRAT</b>	
Classe :		
Date :		

### CYCLE DE BAC PRO



<b>« EVALUATION 2 »</b>	<b>CLE DE FILTRE</b>	
 <b>Durée : 2 h 00</b>	<b>A</b>  <b>HUILE</b>	

### OBJECTIFS EVALUES

Savoir	Objectifs	QUESTION	Barème
<b>S 1.2.1</b>	<ul style="list-style-type: none"> <li>- Compléter un cartouche et une nomenclature</li> <li>- Repérer et inventorier les pièces constitutives d'un mécanisme</li> </ul>	<b>1</b>	<b>/ 10</b>
	<ul style="list-style-type: none"> <li>- Calculer et interpréter les dimensions d'un dessin par son échelle.</li> </ul>	<b>2</b>	<b>/ 5</b>
	<ul style="list-style-type: none"> <li>- Identifier et designer les formes géométriques des surfaces et volumes d'une pièce.</li> <li>- Décrire les positions relatives des surfaces et volumes d'une pièce.</li> <li>- Compléter la cotation d'un dessin de définition en respectant la norme.</li> <li>- Associer un vocabulaire technique à une forme mécanique d'une pièce.</li> </ul>	<b>3</b>	<b>/ 28</b>
	<ul style="list-style-type: none"> <li>- Compléter à main levée la perspective d'une pièce.</li> </ul>	<b>4</b>	<b>/ 7</b>
<b>Appréciation :</b>			<b>/ 50</b>
			<b>/ 20</b>