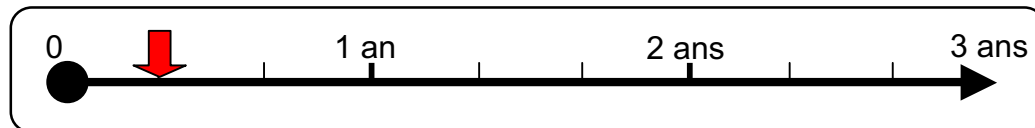
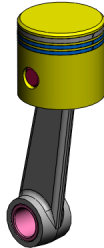



Nom :	FICHE CONTRAT	
Classe :		
Date :		

CYCLE DE BAC PRO



« EVALUATION 3 »		BIELLE MANIVELLE	
	Durée : 2 h 00		

OBJECTIFS EVALUES

Savoir	Objectifs	QUESTION	Barème
S 1.2.1	- Identifier et designer les formes géométriques des surfaces et volumes d'une pièce.	1.1/1.2 2.1/2.2	/ 11
	- Décrire les positions relatives des surfaces et volumes d'une pièce.	1.4/2.4	/ 8
	- Compléter la cotation d'un dessin de définition en respectant la norme.	1.6/2.6	/ 8
	- Associer une même surface dans plusieurs vues d'une mise en plan.	1.3/2.3	/ 5
	- Associer un vocabulaire technique à une forme mécanique d'une pièce.	1.5/2.5	/ 18
Appréciation :			/ 50
			/ 20